

LE CADASTRE

Le territoire de la commune est divisé en sections, elles-mêmes divisées en parcelles :


- Un plan global, appelé **tableau d'assemblage**, permet de situer les différentes sections, repérées par des lettres.
- Les **plans parcellaires** (ou plans-minutes) représentent l'ensemble des parcelles de la commune, où chaque parcelle est numérotée.

Pour désigner une parcelle, on indique sa lettre de section, suivie de son numéro de parcelle. Ex : K25, B296.

Les plans sont accompagnés de deux types de registres :

- L'**état de sections** : il donne la liste des parcelles d'une section par ordre de numéro en indiquant pour chacune le nom du propriétaire.
- Les **matrices cadastrales** sont des registres qui donnent pour chaque propriétaire la liste de ses propriétés présentée dans un tableau où chaque propriétaire a un **folio** (ou compte) avec indication du nom du propriétaire précédent et de l'année de la mutation (acquisition, vente). Elles peuvent aussi comporter une table alphabétique des

propriétaires qui indique le numéro de leur compte afin de le retrouver le plus simplement possible. Il peut y avoir une matrice pour les propriétés bâties (maison, usine...) et une pour les non-bâties (pré, forêt, jardin...). Les matrices sont constamment mises à jour, au gré des acquisitions et cessions.


 **Voici le tableau d'assemblage de la commune de la Haye-Malherbe, dessiné par le géomètre Hautier en 1813.**

Relève les noms des communes qui entourent la Haye-Malherbe. Si tu la connais, donne leur orthographe actuelle.

Relie chaque lieu à la section dans laquelle il se trouve :

- | | | | |
|-----------------------------|---|---|-----------|
| Village de la Haye-Malherbe | • | • | Section G |
| Château d'Argeronne | • | • | Section F |
| Hameau de la Vallée | • | • | Section B |

A ton avis, que représentent les petits carrés roses ?



Comment s'appelle l'étoile ci-contre, qui se trouve en haut à gauche du plan ? A quoi sert-elle ?

Caudebec

Marteau

Taulettes


Montcaurie

Saint-Didier

Arville

Surtauville

Craville



3/10/18

LA PHOTOGRAPHIE AÉRIENNE



✍️ **Voici deux photographies aériennes des environs du Vaudreuil : celle de gauche a été prise en 1950, celle de droite en 2017.**

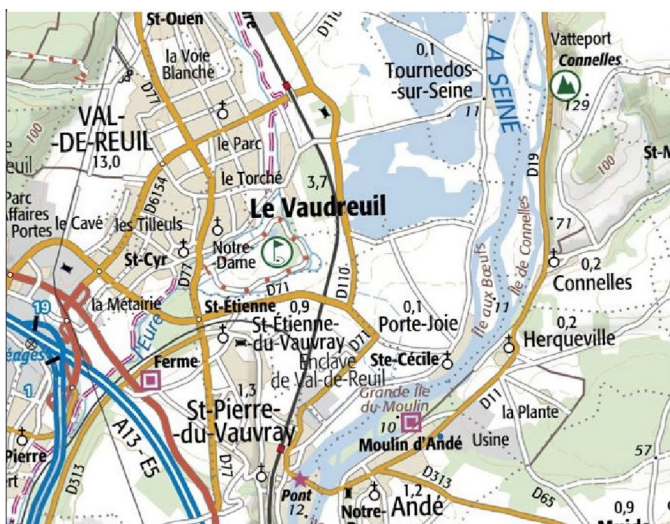
Indique avec une flèche le cours de la Seine.

Que peux-tu remarquer :

- Dans la zone entourée d'un cercle noir ?
- Dans la zone entourée d'un carré noir ?

LA CARTE D'ÉTAT MAJOR

Dessinée dès le XIX^e siècle, la carte d'état major, d'abord destinée à un usage militaire, se caractérise par son souci du détail.



✍️ **Sur une carte , chaque couleur ou symbole a une signification propre.**

Fais correspondre une couleur à un type de route :

- | | |
|---------|-----------------------------------|
| Bleu • | • Route départementale (ex : D11) |
| Jaune • | • Autoroute (ex : A13) |

A quoi peut correspondre un espace colorié en

- bleu ?
- vert ?

Entoure le symbole qui indique :

- un golf
- une église